




Fahrrad-Abschlusstest

Mein Name ist _____

Ich gehe in die Klasse _____

1 a) Zeichne die fehlenden Teile des Fahrrads ein. b) Schreibe auf, wie sie heißen.



2 Welcher Helm sitzt richtig? Kreuze an!



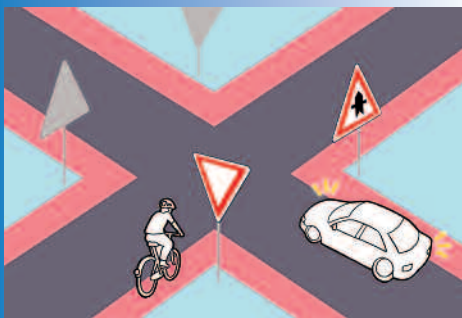
3 Kreuze an, welche Bedeutung die Verkehrsschilder für dich haben.

Hier muss ich mit dem Rad fahren	<input type="checkbox"/>	<input type="checkbox"/>	<input type="checkbox"/>	<input type="checkbox"/>	<input type="checkbox"/>	<input type="checkbox"/>	<input type="checkbox"/>
Hier darf ich nicht mit dem Rad fahren	<input type="checkbox"/>	<input type="checkbox"/>	<input type="checkbox"/>	<input type="checkbox"/>	<input type="checkbox"/>	<input type="checkbox"/>	<input type="checkbox"/>
Hier darf ich mit dem Rad fahren	<input type="checkbox"/>	<input type="checkbox"/>	<input type="checkbox"/>	<input type="checkbox"/>	<input type="checkbox"/>	<input type="checkbox"/>	<input type="checkbox"/>

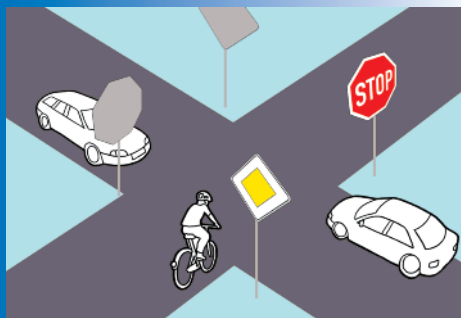
4 Welche vier Schilder regeln die Vorfahrt? Kreuze sie an!

<input type="checkbox"/>	<input type="checkbox"/>	<input type="checkbox"/>	<input type="checkbox"/>	<input type="checkbox"/>	<input type="checkbox"/>	<input type="checkbox"/>	<input type="checkbox"/>

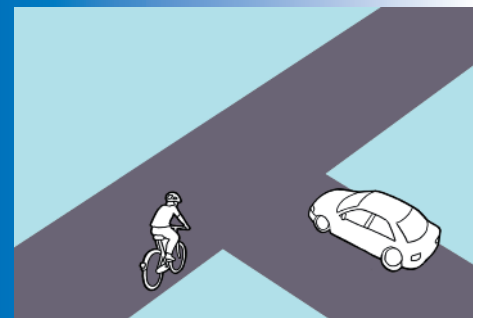
5 Du bist der Radfahrer. Wer hat Vorfahrt? Kreuze die richtige Antwort an.



- Ich fahre als Erste(r)
- Ich fahre als Zweite(r)



- Ich fahre als Erste(r)
- Ich fahre als Zweite(r)
- Ich fahre als Dritte(r)



- Ich fahre als Erste(r)
- Ich fahre als Zweite(r)


Die Regel auf dem Bild ganz rechts heißt

_____ vor _____

6 Du fährst an einem parkenden Auto vorbei. Was musst du tun?



7 Du willst nach links abbiegen. Zeichne den sichersten Weg ein.



8 Womit musst du als Radfahrer rechnen? Was könnte hier passieren?









Geschafft!

Du hast _____ von _____ Punkten erreicht!

Polizeiverkehrslehrer/in: _____