



Name: _____

Datum: _____

Stand 11/13

Meine Fahrrad Checkliste (1/2)

Ist an meinem Fahrrad alles o. k.?
Wofür brauche ich die Teile?



**Scheinwerfer mit weißem Strahler oder
Batterielicht vorne**

Das brauche ich, damit ...




**Rücklicht mit rotem Rückstrahler oder
Batterielicht hinten**

Das brauche ich, damit ...



Roter Rückstrahler

Den brauche ich, damit ...



**Leuchtstreifen am Reifen oder
Speichenstrahler**

Die brauche ich, damit ...



Pedalstrahler

Die brauche ich, damit ...



Name: _____

Datum: _____

Stand 11/13

Meine Fahrrad Checkliste (2/2)

**Ist an meinem Fahrrad alles o. k.?
Wofür brauche ich die Teile?**



Nabendynamo oder Dynamo außen

Den brauche ich, damit ...



Hinterradbremse / Rücktrittbremse

Die brauche ich, damit ...



Vorderradbremse

Die brauche ich, damit ...



Klingel

Die brauche ich, damit ...



Schloss

Das brauche ich, damit ...



Meine Fahrrad Checkliste Auswertung

- | | |
|---|--|
| ① Scheinwerfer mit weißem Strahler oder Batterielicht vorne | Das brauche ich, damit ich den Weg gut sehen kann und andere mich im Dunkeln von vorne sehen können. |
| ② Rücklicht mit rotem Rückstrahler oder Batterielicht hinten | Das brauche ich, damit andere mich von hinten sehen können. |
| ③ Roter Rückstrahler | Den brauche ich, damit andere mich von hinten sehen können. |
| ④ Leuchtstreifen am Reifen oder Speichenstrahler | Die brauche ich, damit andere mich von der Seite sehen können. |
| ⑤ Pedalstrahler | Die brauche ich, damit alle sehen: Hier fährt ein Radfahrer. |
| ⑥ Nabendynamo oder Dynamo außen | Den brauche ich, damit ich Strom für mein Licht bekomme. |
| ⑦ Hinterradbremse / Rücktrittbremse | Die brauche ich, damit ich gut anhalten kann. |
| ⑧ Vorderradbremse | Die brauche ich, damit ich schnell anhalten kann. |
| ⑨ Klingel | Die brauche ich, damit andere mich hören oder ich andere warnen kann. |
| ⑩ Schloss | Das brauche ich, damit mein Fahrrad nicht gestohlen wird. |



Name: _____

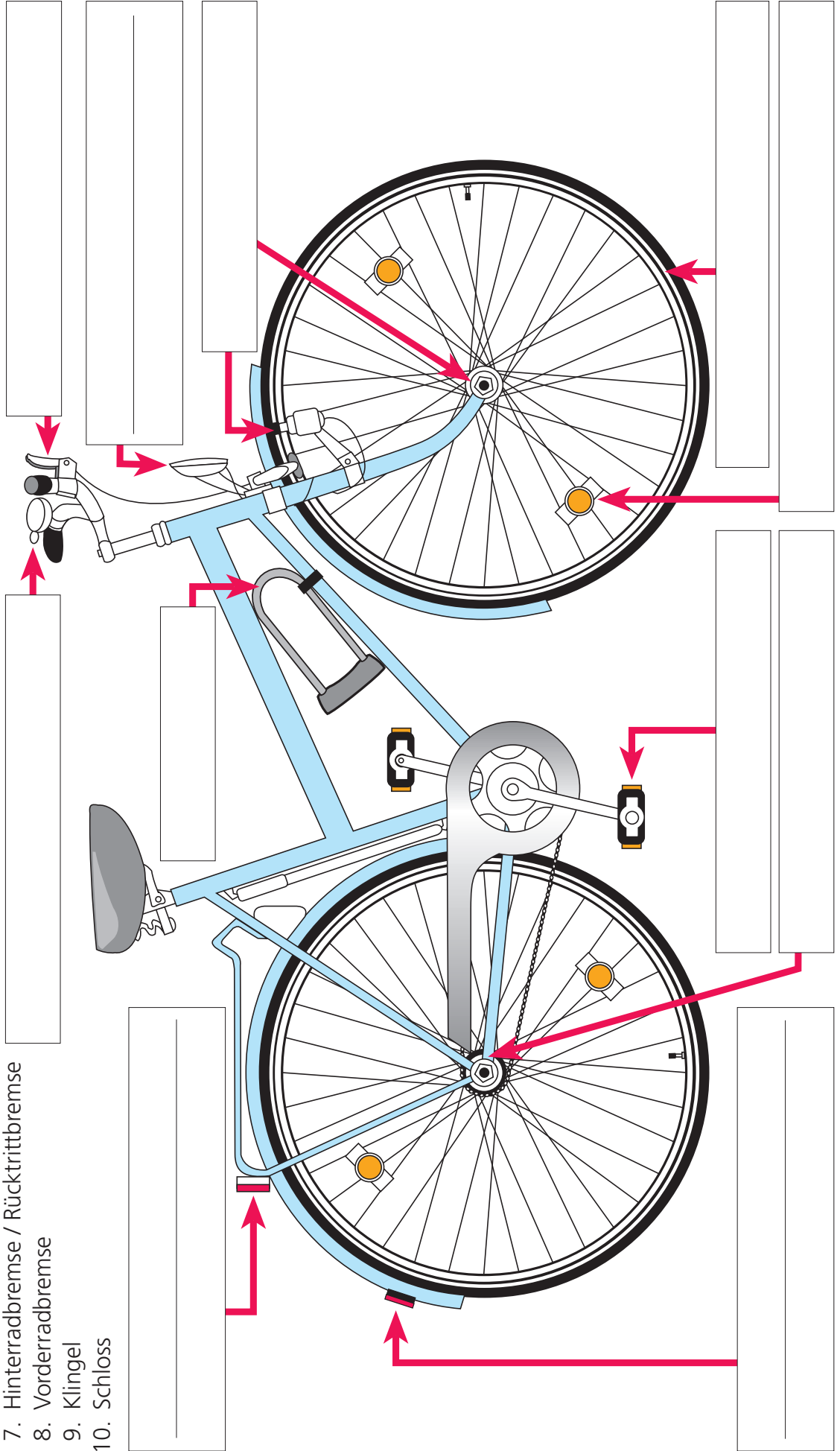
Datum: _____

Stand 11./13

Diese Teile machen dein Fahrrad sicher!

Beschrifte die Zeichnung:

1. Scheinwerfer mit weißem Strahler
2. Rücklicht mit rotem Rückstrahler
3. Roter Rückstrahler
4. Leuchtstreifen / Speichenstrahler
5. Pedalstrahler
6. Nabendynamo / Dynamo außen
7. Hinterradbremse / Rücktrittbremse
8. Vorderradbremse
9. Klingel
10. Schloss





Name: _____

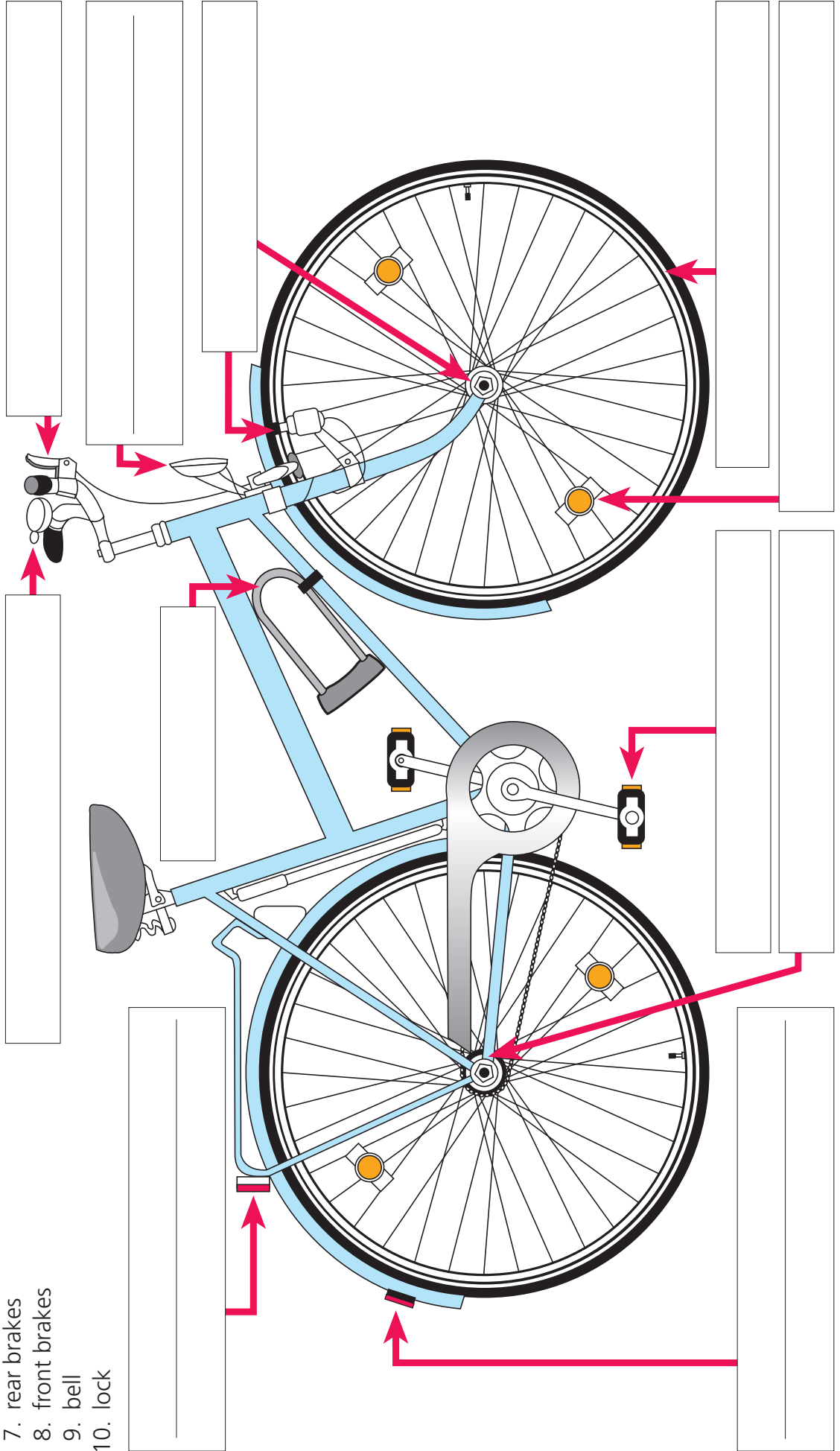
Datum: _____

Stand 11./13

These parts make your bike safe!

Write the words:

1. front light with white front reflector
2. rear light with large reflector
3. red reflector
4. spoke reflector/reflecting strips on the bicycle tire
5. pedal reflector
6. spoke or hub dynamo
7. rear brakes
8. front brakes
9. bell
10. lock



Beobachtungsbogen Radfahrer mit und ohne Helm




Name: _____

Datum: _____

Ort: _____

Straße: _____

Mache hier für jeden Radfahrer, der **ohne Helm** fährt, einen Strich!



Gesamtanzahl: _____

Mache hier für jeden Radfahrer, der **mit Helm** fährt, einen Strich!



Gesamtanzahl: _____



Name: _____

Datum: _____

Stand 11.7.13

Welches Verkehrszeichen gehört zu welchem Bild?

✂ Schneide die Bilder aus und klebe sie richtig ein.

Gemeinsamer Fuß- und Radweg

Fußweg

Fußgängerüberweg

Radweg

Getrennter Rad- und Fußweg

Radweg: Radfahren in beiden Richtungen erlaubt





Name: _____

Datum: _____

Stand 11/13

Ich kenne meine Wege mit dem Rad

Hier muss ich fahren

Hier darf ich nicht fahren

Hier darf ich fahren

Trage jeweils die Nummern der Schilder in die richtige Tabelle ein!

1 	2 	3 	4
5 	6 	7 	8
9 	10 	11 	12
13 	14 	15 	16



Name: _____

Datum: _____

Stand 11/13

Verkehrszeichen-Quiz


Was bedeuten diese Verkehrszeichen? Kreuze an!



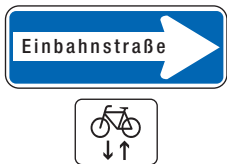
- a) Fußgänger dürfen nur mit Kindern gehen
 b) Parkplatz für Fahrräder
 c) Radfahrer links fahren, Fußgänger rechts gehen !
 d) Fußgänger müssen Fahrräder schieben



- a) Spardose: Geld für ein neues Fahrrad hineinwerfen
 b) Radfahren verboten
 c) Einfahrt für alle Fahrzeuge verboten
 d) Radfahrer dürfen in die Straße hineinfahren



- a) Fußgänger gehen oben rum, Radfahrer fahren unten rum
 b) Parkplatz für Räder von Spaziergängern
 c) Räder für Mutter und Kind
 d) Gemeinsamer Weg für Fußgänger und Radfahrer



- a) Radfahrer müssen gegen die Einbahnstraße fahren
 b) Radfahrer dürfen in beide Richtungen fahren
 c) Einbahnstraße nur für Radfahrer
 d) Autos dürfen Radfahrer nicht überholen



- a) Verbot für Radfahrer
 b) Hier dürfen Räder auch ohne Beleuchtung fahren
 c) Weg für Radfahrer
 d) Fahrrad fahren nur bei blauem Himmel erlaubt



- a) Fußgängerzone: Radfahrer müssen absteigen und das Rad schieben
 b) Fahrradstraße
 c) Hier dürfen nur Fußgänger gehen, die ein Fahrrad besitzen.
 d) Radfahren in der Fußgängerzone erlaubt



- a) Radfahrer müssen einen ganzen Kreis fahren
 b) Radfahrer müssen drei Kreise fahren
 c) Kreisverkehr
 d) Kreis nur für Autofahrer erlaubt



Name: _____

Datum: _____

Stand 11/13

Stadtteil-Detektive

Ich habe die Radwege-Schilder in meinem Stadtteil entdeckt:



Name des Verkehrszeichens

Straße



Name des Verkehrszeichens

Straße



Name des Verkehrszeichens

Straße



Name des Verkehrszeichens



Straße



Name des Verkehrszeichens



Straße



Name des Verkehrszeichens



Straße



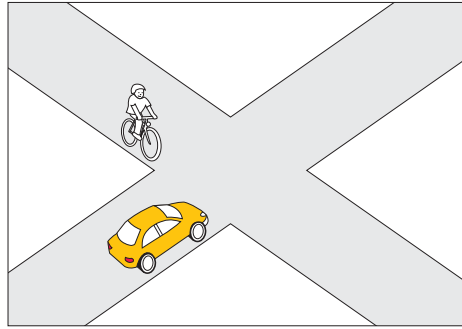
Name: _____

Datum: _____

Stand 11/13

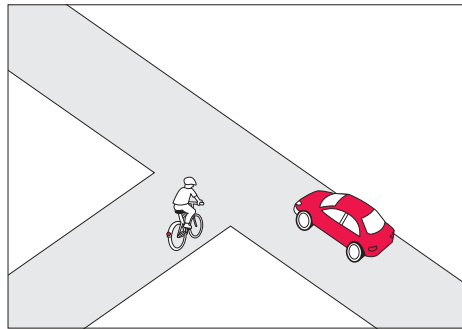
Regeln für die Vorfahrt

Wenn sich an einer



Kr

oder an einer



Ein

zwei Fahrzeuge begegnen, muss geregelt sein, wer zuerst *fa* darf

und wer *wa* muss.

So wird die Vorfahrt geregelt:

1. _____

2. _____

3. _____

4. _____



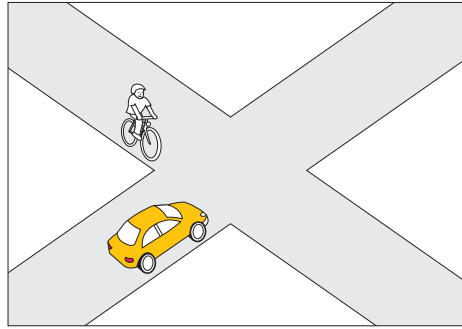
Name: _____

Datum: _____

Stand 11/13

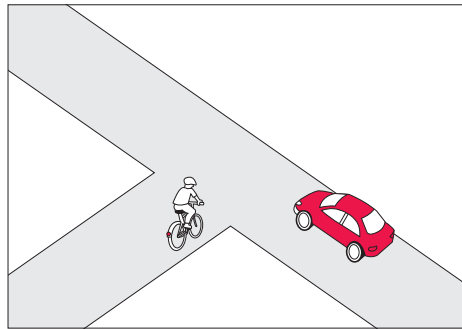
Regeln für die Vorfahrt Lösungen

Wenn sich an einer



Kreuzung.....

oder an einer



Einmündung.....

zwei Fahrzeuge begegnen, muss geregelt sein, wer zuerst *fahren*..... darf
und wer *warten*..... muss.

So wird die Vorfahrt geregelt:

1. Polizist
2. Ampel
3. Vorfahrtschilder
4. rechts vor links



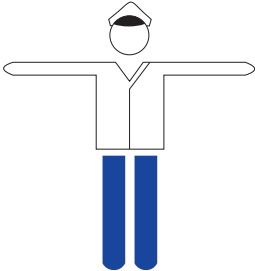
Name: _____

Datum: _____

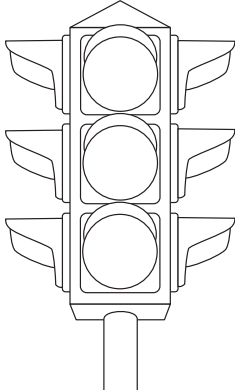
Polizei und Ampeln regeln den Verkehr

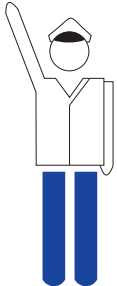
Stand 11/13

Die Zeichen bedeuten

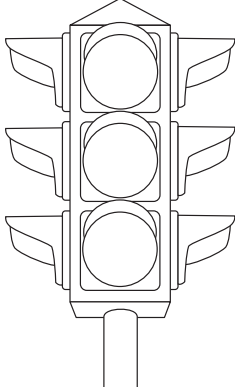


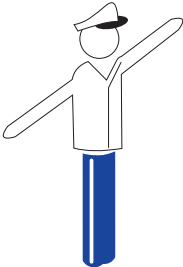
_____ !

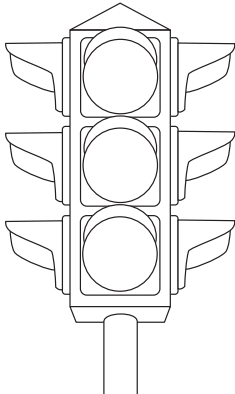




_____ !





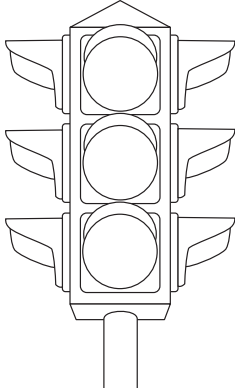




Vor der Kreuzung:

_____ !

Auf der Kreuzung:





Name: _____

Datum: _____

Polizei und Ampeln regeln den Verkehr

Lösungen

Stand 11/13

Die Zeichen bedeuten

	<i>Halt</i> _____ !	
--	---------------------	--

	<i>Halt</i> _____ !	
	<i>Ich mache mich zum</i> _____	
	<i>Weiterfahren fertig</i> _____	

	<i>Erst sehen, dann fahren</i> _____	
--	--------------------------------------	--

	Vor der Kreuzung: <i>Halt</i> _____ !	
	Auf der Kreuzung: <i>weiterfahren</i> _____	



Name: _____

Datum: _____


Vorfahrt – Regeln und Zeichen (1/8)

Stand 11/13

Klebe das richtige Verkehrszeichen und den Text ein!

Dieses Schild bedeutet:

Vorfahrtstraße



Wie verhalte ich mich?



Name: _____

Datum: _____


Stand 11/13

Vorfahrt – Regeln und Zeichen (2/8)

Klebe das richtige Verkehrszeichen und den Text ein!

Dieses Schild bedeutet:

Halt! Vorfahrt beachten / geben



Wie verhalte ich mich?



Name: _____

Datum: _____


Stand 11/13

Vorfahrt – Regeln und Zeichen (3/8)

Klebe das richtige Verkehrszeichen und den Text ein!

Dieses Schild bedeutet:

Vorfahrt an dieser Kreuzung



Wie verhalte ich mich?



Name: _____

Datum: _____


Stand 11/13

Vorfahrt – Regeln und Zeichen (4/8)

Klebe das richtige Verkehrszeichen und den Text ein!

Dieses Schild bedeutet:

Vorfahrt beachten / geben



Wie verhalte ich mich?



Name: _____

Datum: _____


Stand 11/13

Vorfahrt – Regeln und Zeichen (5/8)

Klebe das richtige Verkehrszeichen und den Text ein!

Dieses Schild bedeutet:

Vorfahrt beachten beim Kreisverkehr



Wie verhalte ich mich?



Name: _____

Datum: _____


Stand 11/13

Vorfahrt – Regeln und Zeichen (6/8)

Klebe die richtige Zeichnung und den Text ein!

Kein Schild an Kreuzung oder Einmündung bedeutet:

rechts vor links



Wie verhalte ich mich?



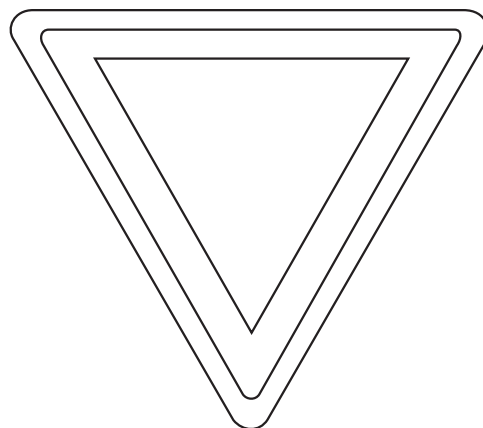
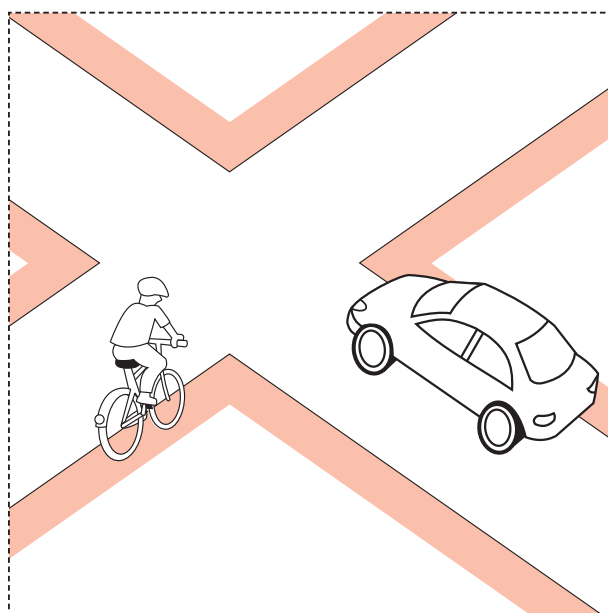



Name: _____

Datum: _____

Stand 11/13

Vorfahrt – Regeln und Zeichen (7/8)

Male die Zeichnungen in den richtigen Farben an und schneide alle aus.





Name: _____

Datum: _____

Vorfahrt – Regeln und Zeichen (8/8)

Stand 11/13

Schneide die Texte einzeln aus und klebe sie auf die richtigen Flächen!



Wenn ich dieses Schild sehe,
darf ich auf dieser Straße immer zuerst fahren.

Wenn ich dieses Schild sehe,
muss ich **warten** und die Vorfahrt beachten.

Wenn ich dieses Schild sehe,
muss ich **halten** und die Vorfahrt beachten.

Wenn ich dieses Schild sehe,
habe ich auf der Straße nur an dieser Kreuzung Vorfahrt.

Wenn ich dieses Schild sehe,
muss ich bei der Einfahrt in den Kreisverkehr allen anderen Vorfahrt geben.

Wenn ich bei einer Einmündung oder an der Kreuzung kein Schild sehe,
gebe ich dem Vorfahrt, der von rechts kommt.



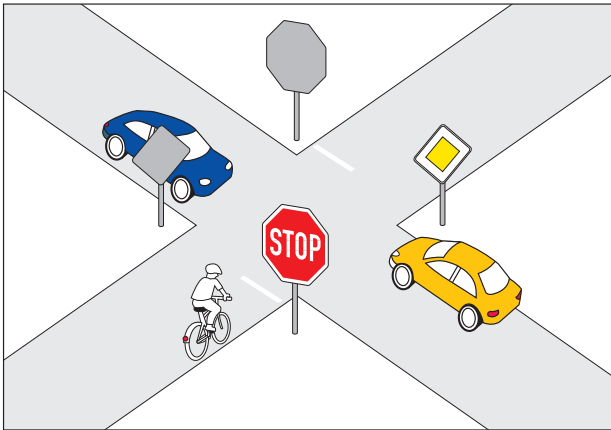
Name: _____

Datum: _____

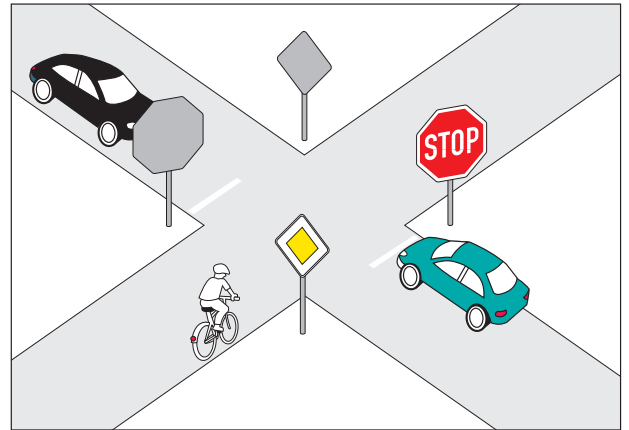
Stand 11/13

Ein kleiner Test für mich: Die Vorfahrtzeichen

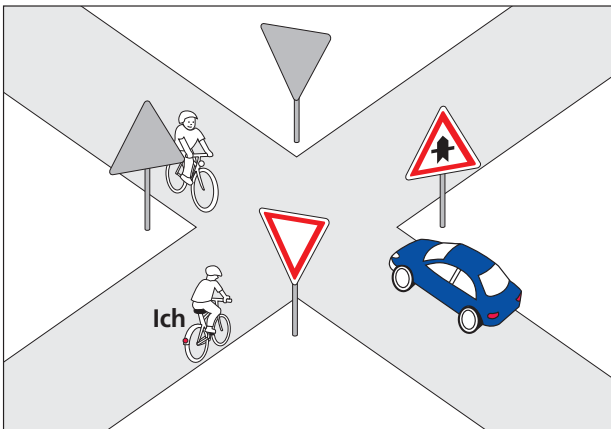
Kreuze an!



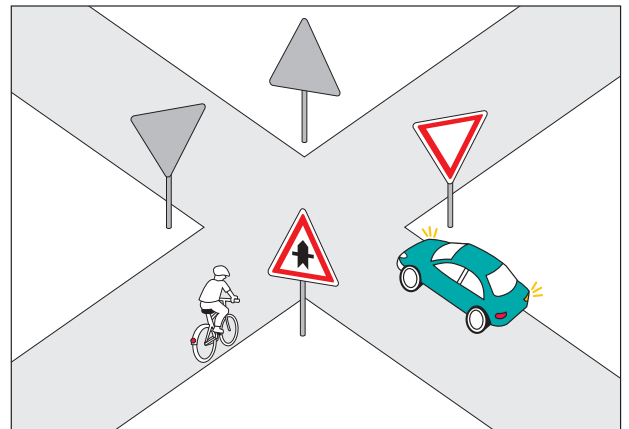
- Ich fahre als Erste(r)
- Ich fahre als Zweite(r)
- Ich fahre als Dritte(r)



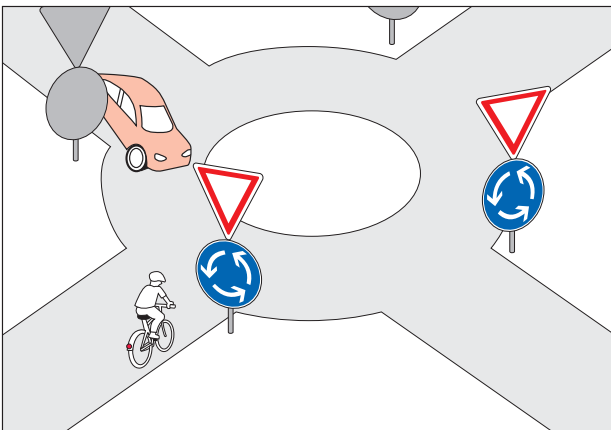
- Ich fahre als Erste(r)
- Ich fahre als Zweite(r)
- Ich fahre als Dritte(r)



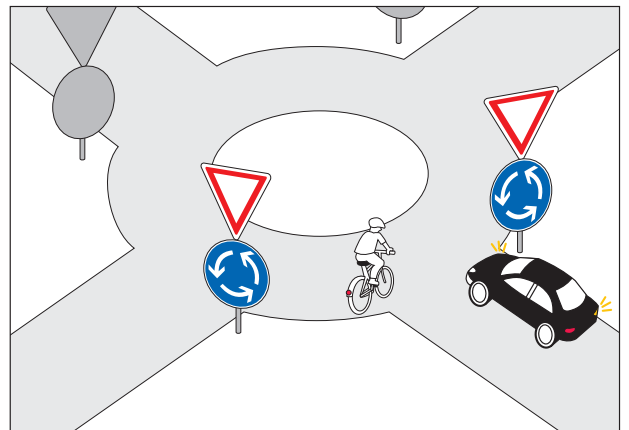
- Ich fahre als Erste(r)
- Ich fahre als Zweite(r)
- Ich fahre als Dritte(r)



- Ich fahre als Erste(r)
- Ich fahre als Zweite(r)



- Ich fahre als Erste(r)
- Ich fahre als Zweite(r)



- Ich fahre als Erste(r)
- Ich fahre als Zweite(r)




Name: _____

Datum: _____

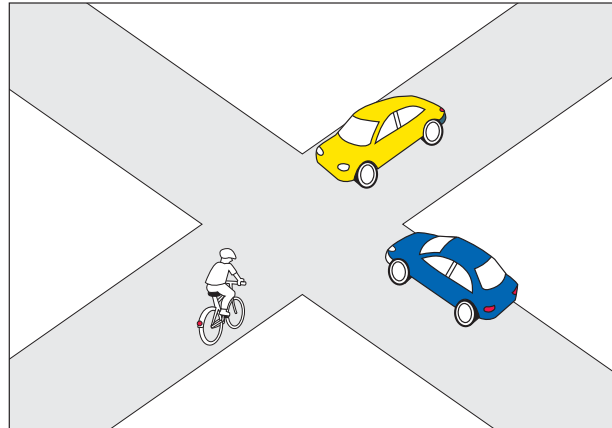
Stand 11/13

Ein kleiner Test für mich: Rechts vor links

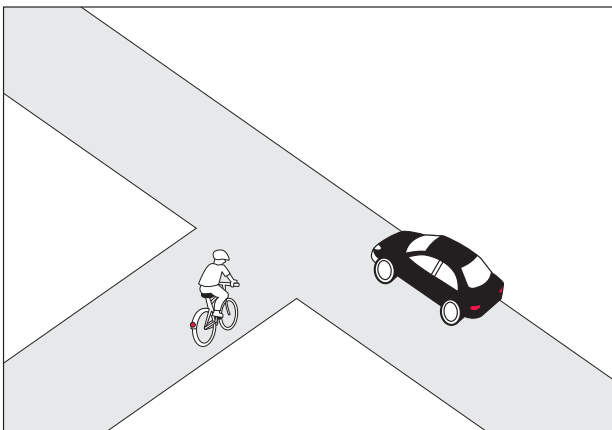
Kreuze an!



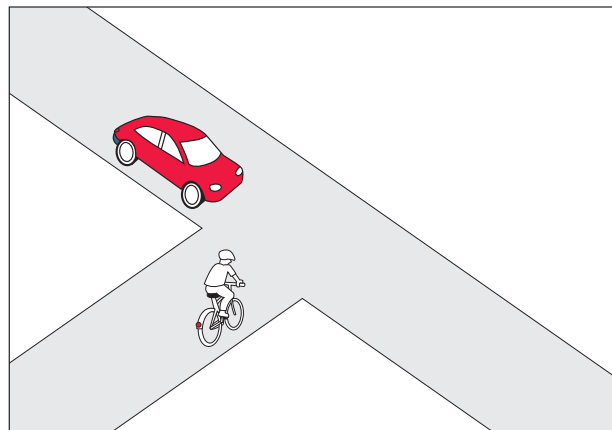
- Ich fahre als Erste(r)
- Ich fahre als Zweite(r)



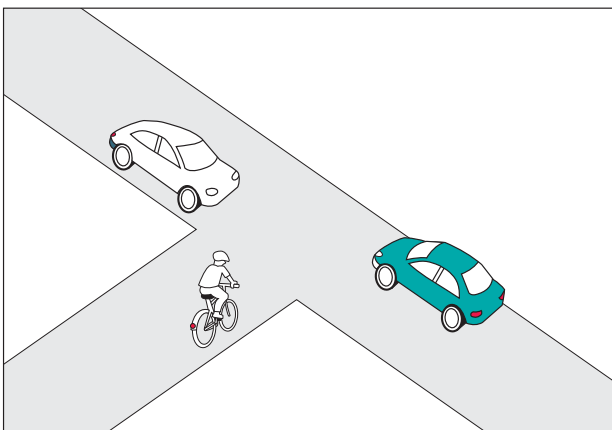
- Ich fahre als Erste(r)
- Ich fahre als Zweite(r)
- Ich fahre als Dritte(r)




- Ich fahre als Erste(r)
- Ich fahre als Zweite(r)



- Ich fahre als Erste(r)
- Ich fahre als Zweite(r)



- Ich fahre als Erste(r)
- Ich fahre als Zweite(r)
- Ich fahre als Dritte(r)



- Ich fahre als Erste(r)
- Ich fahre als Zweite(r)
- Ich fahre als Dritte(r)
- Ich fahre als Vierte(r)



Name: _____

Datum: _____

Stand 11/13

Stadtteil-Detektive

Ich habe die Vorfahrtzeichen in meinem Stadtteil entdeckt:



Name des Verkehrszeichens

Straße



Name des Verkehrszeichens

Straße



Name des Verkehrszeichens

Straße



Name des Verkehrszeichens

Straße



Name des Verkehrszeichens

Straße

Regel: rechts vor links

Straße



Name: _____


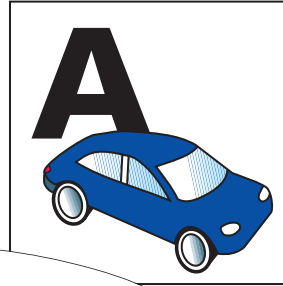
Datum: _____

Stand 11/13

Auto oder Fahrrad?

Wer sagt was?

Schreibe **A** für **A**uto und **F** für **F**ahrrad in die Kästchen unter den Sprechblasen!



Ich fahre schneller als du.

Ich brauche weniger Platz als du.

Ich bekomme mehr Muckis als du.

Ich stehe nicht im Stau.

Ich mache weniger Lärm als du.

Ich kann viel mehr transportieren als du.

Ich kann längere Strecken fahren als du.

Ich mache keine Abgase.

Ich bin viel gesünder als du.

Ich fahre umweltfreundlicher als du.

Ich brauche mehr Kraftstoff als du.

Ich ...

Ich bin bei schlechtem Wetter bequemer als du.



Name: _____

Datum: _____

Stand 11/13

Selbsteinschätzungsbogen Ich schätze mich selbst ein (1/2)

So kann ich mit dem Fahrrad umgehen:



kann ich gut



kann ich
noch nicht so gut

sicher aufsteigen und anfahren

langsam eine Spur fahren,
mich nach hinten umsehen ohne zu wackeln

vor einem Hindernis ausweichen

einhandig fahren

mit beiden Bremsen gleichzeitig bremsen

Ich weiß, wie ich mich und das Fahrrad ausstatten muss:

ja

nein,
noch nicht genau

Ich kenne alle wichtigen Teile an meinem Fahrrad.

Ich weiß, wie mein Helm richtig sitzt.

Ich weiß, wie ich als Radfahrer im Dunkeln
gesehen werde.

Ich weiß, wie mein Fahrrad diebstahlsicher
angeschlossen wird.

Ich kenne die wichtigen Verkehrsregeln für Radfahrer:

ja

nein,
noch nicht genau

Ich weiß, auf welchen Wegen Radfahrer fahren müssen.

Ich weiß, wo Radfahrer nicht fahren dürfen.

Ich kenne die Verkehrszeichen



Ich kenne die richtige Reihenfolge bei der Regelung
„Rechts-vor-links“.



Name: _____

Datum: _____

Stand 11/13

Selbsteinschätzungsbogen Ich schätze mich selbst ein (2/2)

So verhalte ich mich mit dem Fahrrad im Straßenverkehr:



Das mache ich immer



Das habe ich noch nicht genug beachtet

Ich fahre an geparkten Fahrzeugen und Hindernissen mit genügendem Seitenabstand vorbei.

Ich beachte beim direkten Linksabbiegen alle wichtigen Punkte (Umsehen, Handzeichen geben, einordnen, andere Verkehrsteilnehmer beachten).

Ich weiß, wann ich besser indirekt abbiege.

Ich beachte beim Rechtsabbiegen die wichtigen Punkte: Handzeichen geben und auf andere Verkehrsteilnehmer, vor allem auf Fußgänger, achten.

Ich fahre bremsbereit an Ein- und Ausfahrten heran.

Ich gucke Autofahrer an, die beim Abbiegen über den Radweg fahren. Dann weiß ich, ob sie mich sehen.

Ich bleibe immer hinter einem Lkw, weil der Lkw-Fahrer mich leicht übersehen kann.

Wenn ein Radweg endet und ich auf der Fahrbahn weiterfahren muss, sehe ich mich rechtzeitig um und gebe ein Handzeichen.

Ich nehme Rücksicht auf Fußgänger und andere Verkehrsteilnehmer.

Das weiß ich über die Umwelt:

ja

nein

Ich weiß, dass Radfahren umweltfreundlich ist.

Ich weiß, dass Radfahren gesund ist.

Ich weiß, dass Radfahren sportlich ist.

Ich weiß, dass Radfahren mobil macht.

Ich kann selbstständig mit dem Fahrrad unterwegs sein.

Ich muss noch etwas üben.

Datum: _____ Unterschrift: _____